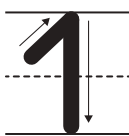


ПИШЕМ И СЧИТАЕМ



Развитие
ребёнка

ПИЩЕМ И СЧИТАЕМ




1	1	1	1	1	1	1	1	1	1	1	1
1	1										

Напиши недостающую цифру

	2	3	4	5	6	7	8	9	10
--	---	---	---	---	---	---	---	---	----

Раскрась 1 звезду



Сколько поднято пальцев?



Нарисуй один любой предмет

Сколько здесь звездочек?



ПИЩЕМ И СЧИТАЕМ

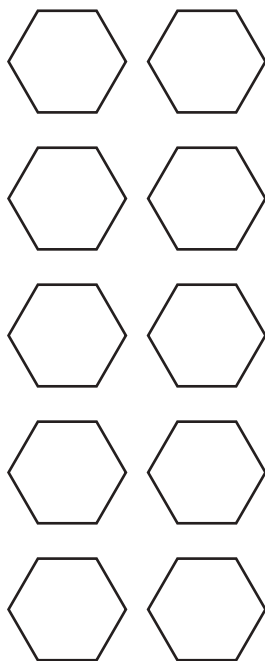


2	2	2	2	2	2	2	2	2	2	2	2
2	2										

Напиши недостающую цифру

1		3	4	5	6	7	8	9	10
---	--	---	---	---	---	---	---	---	----

Раскрась 2
шестиугольника

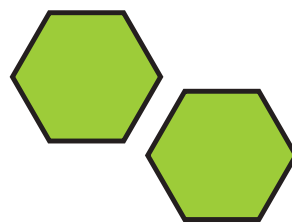


Сколько поднято
пальцев?



Нарисуй два
любых предмета

Сколько здесь
шестиугольников?



ПИЩЕМ И СЧИТАЕМ




3	3	3	3	3	3	3	3	3	3	3	3
3	3										


Напиши недостающую цифру

1	2		4	5	6	7	8	9	10
---	---	--	---	---	---	---	---	---	----

Раскрась 3 конфеты



Сколько поднято пальцев?

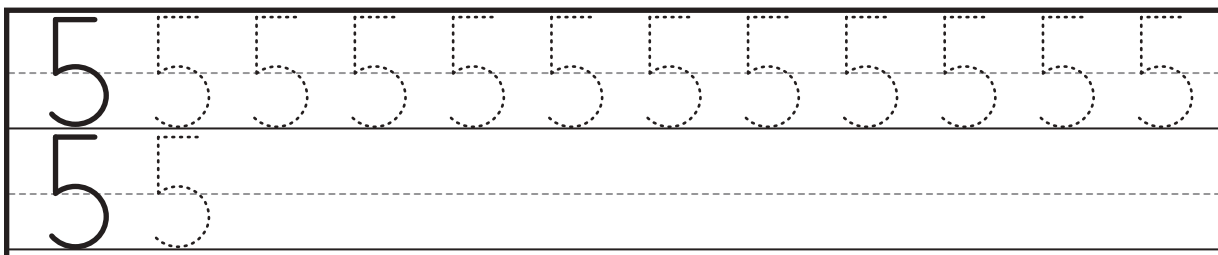



Нарисуй три любых предмета

Сколько здесь конфет?




ПИЩЕМ И СЧИТАЕМ




Напиши недостающую цифру

1	2	3	4		6	7	8	9	10
---	---	---	---	--	---	---	---	---	----

Раскрась 5 звезд



Сколько поднято пальцев?



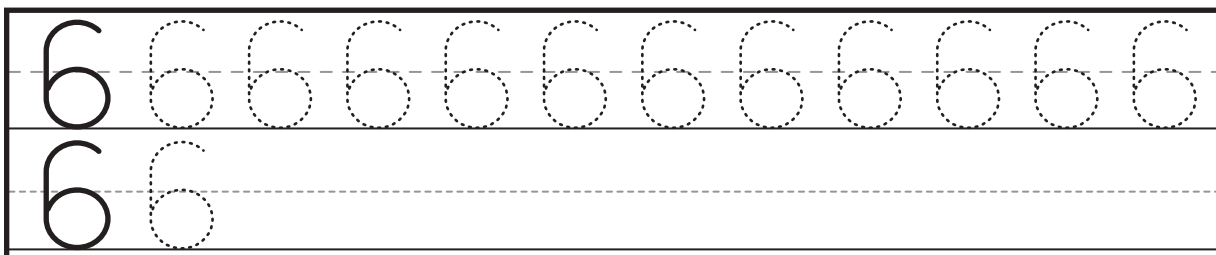
Нарисуй пять любых предметов

Сколько здесь звездочек?



ПИЩЕМ И СЧИТАЕМ


6



Напиши недостающую цифру

1	2	3	4	5		7	8	9	10
---	---	---	---	---	--	---	---	---	----

Раскрась 6 груш




Сколько поднято пальцев?



Нарисуй шесть любых предметов

Сколько здесь груш?



ПИЩЕМ И СЧИТАЕМ


8

8	8	8	8	8	8	8	8	8	8	8	8
8	8										


Напиши недостающую цифру

1	2	3	4	5	6	7		9	10
---	---	---	---	---	---	---	--	---	----

Раскрась 8 цветочков




Сколько поднято пальцев?



Нарисуй восемь любых предметов

Сколько здесь цветочков?



ПИЩЕМ И СЧИТАЕМ



9	9	9	9	9	9	9	9	9	9	9
9	9									

Напиши недостающую цифру

1	2	3	4	5	6	7	8		10
---	---	---	---	---	---	---	---	--	----

Раскрась 9 яблочек

Сколько поднято пальцев?

Нарисуй девять любых предметов

Сколько здесь яблочек?

ПИЩЕМ И СЧИТАЕМ


10

10	10	10	10	10	10	10
10	10					


Напиши недостающее число

1	2	3	4	5	6	7	8	9	
---	---	---	---	---	---	---	---	---	--

Раскрась 10 бабочек



Сколько поднято пальцев?



Нарисуй десять любых предметов

Сколько здесь бабочек?



